

1. Rieš slovnú úlohu.

V júni idú prváci do školy v prírode. **Dievčat** ide **12**, **chlapcov** **6**. Koľko prvákov ide do školy v prírode **spolu**?

Dievčat

Chlapcov

Spolu

--	--	--	--	--

Do školy v prírode ide _____ prvákov.

2. Vypočítaj príklady.

$14 - 10 =$

$18 - 5 =$

$10 + 6 =$

$12 + 8 =$

$17 - 4 =$

$15 - 11 =$

$6 + 3 =$

$13 + 5 =$

$19 - 2 =$

3. Rieš slovnú úlohu.

Na strome bolo ráno **9 jabĺčok**. Počas dňa **4 jabĺčka spadli** na zem. Koľko jabĺk **zostalo** na strome večer?

Predtým na strome

Spadlo na zem

Zostalo






--	--	--	--	--

Na strome zostalo visieť _____ jabĺk.

4. Usporiadaj čísla podľa veľkosti (od najväčšieho po najmenšie).

3, 20, 4, 11, 0, 19, 15, 13

5. Vypočítaj príklady v štvorci.

16	+	3	=	
-	☺	+	☺	-
5	-	2	=	
=	☺	=	☺	=
	+		=	

6. Nakresli dvojfarebný obrázok z krivých a rovných čiar. Krivé čiary kresli modrou farbičkou a rovné čiary rysuj ružovou farbičkou.

